

REGIONE PIEMONTE

**BANDO 186 - CONCORSO PUBBLICO PER TITOLI ED ESAMI
A N. 4 POSTI DI QUALIFICA DIRIGENZIALE A TEMPO
INDETERMINATO PER IL PROFILO PROFESSIONALE DI
"ESPERTO SETTORE AGRICOLTURA"**

QUESTIONARIO

NON STRAPPARE

l'involucro di plastica prima che venga dato il
segnale di inizio della prova

- 1) Nel Regolamento (UE) n. 1308/2013 del Parlamento Europeo e del Consiglio del 17 dicembre 2013, per vendemmia verde si intende**
- A. la distruzione parziale dei grappoli non ancora giunti a maturazione
 - B. la distruzione totale o l'eliminazione dei grappoli non ancora giunti a maturazione, riducendo a zero la resa della relativa superficie.**
 - C. la non distruzione totale dei grappoli non ancora giunti a maturazione
 - D. lasciare sulla pianta uva che potrebbe essere commercializzata al termine del normale ciclo di produzione
- 2) A cosa ci si riferisce nel Regolamento (UE) n. 1305/2013 del Parlamento Europeo e del Consiglio del 17 dicembre 2013, per "misura" del Programma di Sviluppo Rurale?**
- A. Ad un elenco di normative che contribuiscono alla realizzazione delle priorità dell'Unione in materia di sviluppo rurale
 - B. Ad una serie di interventi che contribuiscono alla realizzazione di una o più delle priorità dell'Unione in materia di sviluppo rurale**
 - C. A tutti gli interventi che non contribuiscono alla realizzazione di una o più delle priorità dell'Unione in materia di sviluppo rurale
 - D. Nessuna delle alternative proposte è corretta
- 3) Ai sensi del L.R. 19 giugno 2018 n. 5, chiunque, in qualsiasi tempo, abbatte fauna selvatica per caso fortuito o forza maggiore, o viene nella disponibilità di fauna selvatica morta, o di parti di essa, ne dà comunicazione nel più breve tempo possibile ...**
- A. al Comune di residenza o a quello in cui è avvenuto il fatto**
 - B. alla Prefettura
 - C. all'ASL di competenza
 - D. alla Regione
- 4) Ai sensi della L.R. 29 dicembre 2006 n. 37, qual è l'ente competente per territorio che autorizza, ai fini della salvaguardia della fauna ittica, la messa in secca di corsi d'acqua, bacini e canali, compresi quelli privati in comunicazione con acque pubbliche?**
- A. La Provincia/Città Metropolitana**
 - B. La Regione
 - C. Il Comune
 - D. Il Ministero dell'Ambiente
- 5) Ai sensi del D. Lgs. 102 del 2004 e ss.mm.ii., qual è la misura del contributo in conto capitale previsto a favore delle imprese agricole, ivi comprese le cooperative, che abbiano subito danni superiori al 30% della produzione lorda vendibile?**
- A. Fino un massimo dell'80% del danno accertato sulla base della produzione lorda vendibile media ordinaria**
 - B. Fino un massimo dell'70% del danno accertato sulla base della produzione lorda vendibile media ordinaria
 - C. Fino un massimo dell'50% del danno accertato sulla base della produzione lorda vendibile media ordinaria
 - D. Fino un massimo dell'40% del danno accertato sulla base della produzione lorda vendibile media ordinaria
- 6) Ai sensi dell'art. 2135 del Codice Civile, quale tra le seguenti sono attività connesse esercitate dall'imprenditore agricolo?**
- A. Le attività dirette alla cura e allo sviluppo di un ciclo biologico o di una fase necessaria del ciclo stesso che utilizzano o possono utilizzare il fondo, il bosco o le acque dolci, salmastre o marine
 - B. Le attività dirette alla manipolazione, conservazione, trasformazione, commercializzazione e valorizzazione che abbiano ad oggetto qualsiasi prodotto
 - C. Le attività dirette alla fornitura di beni o servizi mediante l'utilizzazione prevalente di attrezzature e risorse dell'azienda, ivi incluse le attività di valorizzazione del territorio e del patrimonio rurale**
 - D. La coltivazione del fondo, la selvicoltura e l'allevamento di animali
- 7) Ai sensi del D.Lgs. 203/1982, quando ha inizio l'annata agraria?**
- A. 15 gennaio
 - B. 1 ottobre
 - C. 11 novembre**
 - D. 13 dicembre

8) Ai sensi della Legge Regionale 1/2019, chiunque intende gestire un'azienda agrituristica presenta ...

- A. una DIA, in modalità telematica, al Sportello Unico Edilizia del comune sul cui territorio insistono le strutture e gli immobili da destinare all'attività, su apposita modulistica predisposta e resa disponibile dalla struttura della città metropolitana competente
- B. un'istanza di autorizzazione, tramite PEC, al SUAP del comune sul cui territorio insistono le strutture e gli immobili da destinare all'attività, su apposita modulistica predisposta e resa disponibile dalla struttura comunale competente
- C. una SCIA, in modalità telematica al SUAP all'ufficio regionale competente sul cui territorio insistono le strutture e gli immobili da destinare all'attività, su apposita modulistica predisposta e resa disponibile dalla medesima struttura regionale competente
- D. una SCIA, in modalità telematica al SUAP del comune sul cui territorio insistono le strutture e gli immobili da destinare all'attività, su apposita modulistica predisposta e resa disponibile dalla struttura regionale competente

9) Le concessioni traslative sono ...

- A. provvedimenti che assegnano diritti e potestà di nuova creazione al concessionario
- B. provvedimenti con cui si trasferiscono al concessionario diritti e potestà di cui è titolare l'amministrazione
- C. provvedimenti che legittimano l'esercizio di diritti o potestà già preesistenti nella sfera del soggetto
- D. provvedimenti che incidono negativamente sulla sfera giuridica dei destinatari, sacrificando diritti, facoltà e poteri dei privati in vista di un interesse pubblico

10) Quale tra i seguenti provvedimenti è di riesame con esito conservativo?

- A. Annullamento d'ufficio e convalida
- B. Decadenza e revoca
- C. Proroga e rinnovo
- D. Sanatoria e ratifica

11) Ai sensi del D.Lgs. 267/2000 e s.m.i., il bilancio di previsione finanziario ha carattere ...

- A. compensativo
- B. provvisorio
- C. autorizzatorio
- D. autoritativo

12) Ai sensi del D.Lgs. 150/2009 e s.m.i., che cosa individua il Piano della performance?

- A. Gli indirizzi e gli obiettivi strategici ed operativi e definisce gli obiettivi assegnati al personale dirigenziale ed i relativi indicatori
- B. I risultati organizzativi e individuali raggiunti rispetto ai singoli obiettivi programmati ed alle risorse
- C. L'ammontare complessivo dei premi collegati alla performance stanziati e l'ammontare dei premi effettivamente distribuiti
- D. Gli interventi formativi per sviluppare le competenze e le conoscenze necessarie all'organizzazione per la realizzazione degli obiettivi strategici

13) L'Activity Based Costing (ABC) imputa ...

- A. i costi ai prodotti
- B. i costi prima ai centri di costo e poi ai prodotti
- C. i costi prima alle attività e poi ai prodotti/servizi
- D. i costi prima ai prodotti/servizi e poi alle attività

14) Quale tra le alternative di risposta proposte configura il reato di abuso di ufficio?

- A. La violazione di norme di legge o di regolamento, ovvero l'omessa astensione in presenza di un interesse proprio o di un prossimo congiunto
- B. Il conseguimento indebito, per sé o per altri, di contributi, finanziamenti, mutui agevolati o altre erogazioni dello stesso tipo, concessi o erogati dallo Stato
- C. L'indebito rifiuto di un atto dell'ufficio che, per ragioni di giustizia o di sicurezza pubblica o di ordine pubblico o di igiene e sanità, deve essere compiuto senza ritardo
- D. Lo sviamento di contributi, sovvenzioni o finanziamenti ottenuti dallo Stato o da altro Ente Pubblico o dalle Comunità europee destinati a favorire iniziative dirette alla realizzazione di opere o allo svolgimento di attività di pubblico interesse

15) Disporre le lettere nell'ordine corretto tenendo presente che: D viene dopo di N; A viene dopo di D; D viene dopo di M; N viene prima di M:

- A. NDAM
- B. DANM
- C. NMDA
- D. NAMD

16) Attorno ad un tavolo si devono riunire 12 persone di cui 4 siracusani. Uno di questi calcola la probabilità di trovarsi in mezzo a due concittadini. A quale risultato deve pervenire:

- A. 3/55
- B. 12/110
- C. 7/21
- D. 5

17) Indicare quale, fra i seguenti numeri, integra correttamente la serie: 41 - 53 - 65 - ..?.. - 89 - 91 - 103:

- A. 66
- B. 75
- C. 57
- D. 77

18) Una tartaruga tenta di scalare una collinetta alta 60 metri. Di giorno riesce a percorrere 20 metri, ma di notte, addormentandosi, rotola giù per 15 metri. Quanti giorni impiegherà la tenace tartaruga per raggiungere la cima della collina?

- A. 9
- B. 12
- C. 7
- D. 20

19) Aldo dice: io e Biagio abbiamo insieme 76 chiavi
Biagio dice: io e Claudio abbiamo insieme 140 chiavi
Claudio aggiunge: se Aldo mi desse le sue chiavi, io avrei in tutto 96 chiavi
Quante chiavi possiede ciascuno dei tre?

- A. 16, 60, 80
- B. 46, 70, 40
- C. 30, 90, 20
- D. 14, 56, 84

20) Se oggi è domenica e sono le 16:00, quale giorno ed ora saranno fra 263 ore?

- A. giovedì 15:00
- B. mercoledì 5:00
- C. domenica 14:00
- D. sabato 14:00

21) Quale numero può essere inserito al posto del "?" nella seguente sequenza 2 - 5 - ? - 23 - 47:

- A. Il numero 22
- B. Il numero 18
- C. Il numero 20
- D. Il numero 11

22) Per questo quesito vengono presentate 3 immagini: il Suo compito è quello di scegliere, tra le quattro alternative di risposta, la figura che meglio completa la successione se inserita nel campo vuoto.

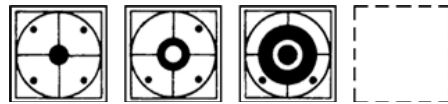


Figura A



Figura B

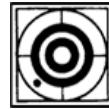


Figura C

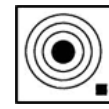
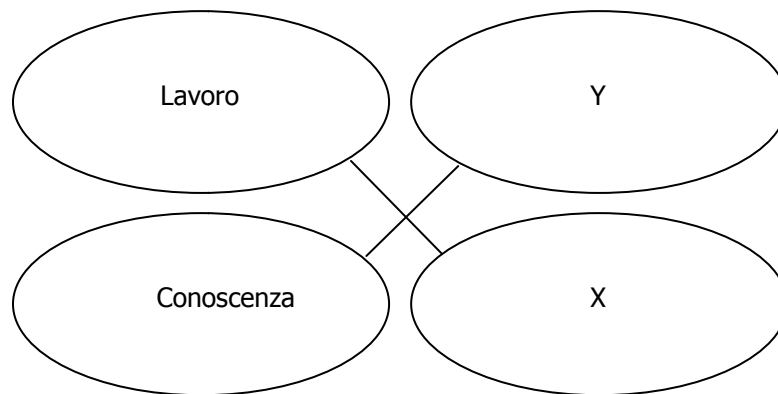


Figura D

- A. Figura A
- B. Figura B
- C. **Figura C**
- D. Figura D

23) Quali parole sostituiscono correttamente X e Y?



- A. X = Lezione; Y = Apprendimento
- B. X = Impegno; Y = Padronanza
- C. **X = Salario; Y = Lezione**
- D. X = Fatica; Y = Ignoranza

24) Quale delle figure è il riflesso negativo della figura sottostante?

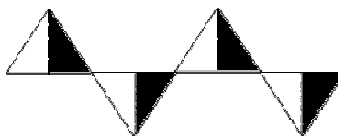


Figura A

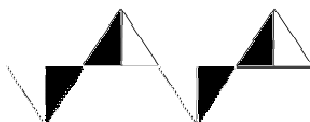


Figura B

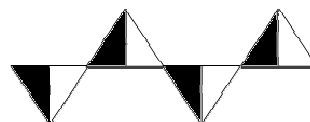


Figura C

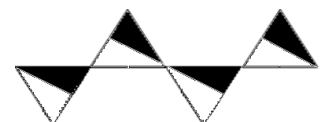


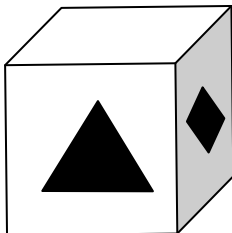
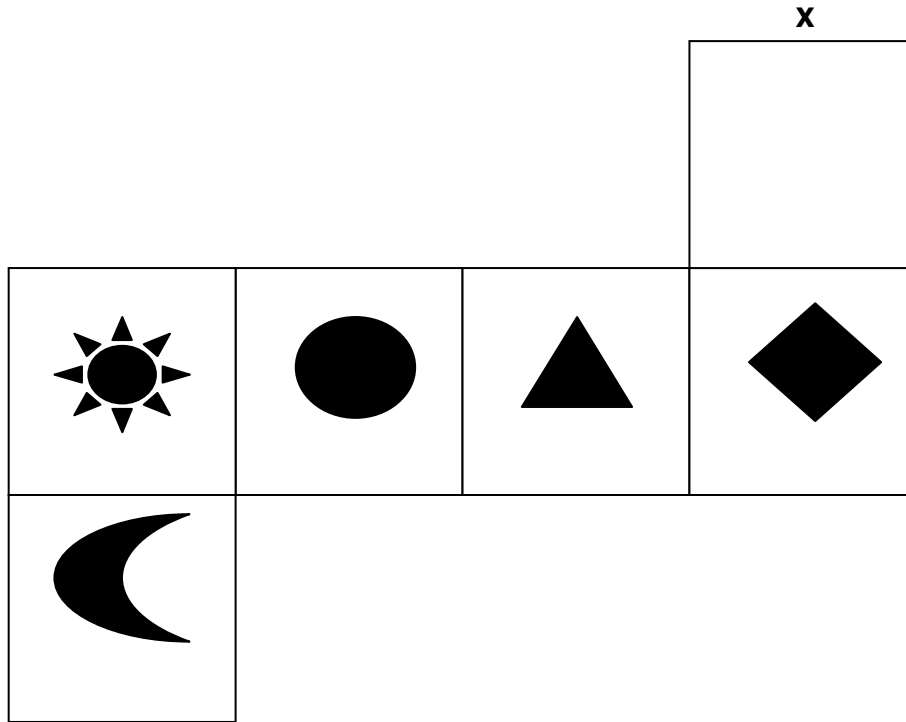
Figura D

- A. Figura A
- B. Figura B
- C. **Figura C**
- D. Figura D

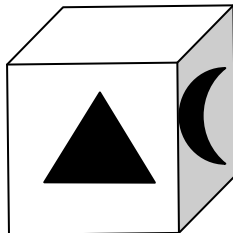
25) Quale tra queste parole non è simile alle altre tre?

- A. Gheriglio
- B. Zainetto
- C. Guanto
- D. Mandorlo

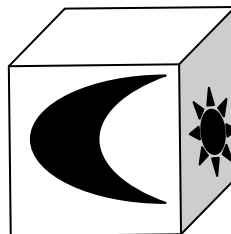
26) Indicare di quale dei quattro cubi (A, B, C e D) la figura X rappresenta lo sviluppo piano.



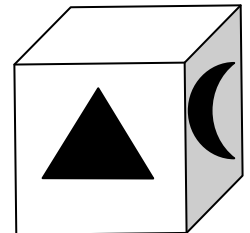
Cubo A



Cubo B



Cubo C



Cubo D

A. Cubo A

B. Cubo B

C. Cubo C

D. Cubo D

27). Facendo riferimento alla tabella e a quanto riportato, quale prodotto ha portato maggiore percentuale di profitto alla Verdi Srl? (La percentuale di profitto è la differenza fra prezzo di vendita e costo di produzione, come percentuale del costo di produzione).

	Costi di produzione	Numero di pezzi venduti	Prezzo di vendita
Vanghe	€ 20,00	15	€ 30,00
Forconi	€ 17,00	10	€ 25,00
Rastrelli	€ 12,00	8	€ 20,00
Carriole	€ 15,00	12	€ 20,00

A. Vanghe

B. Carriole

C. Rastrelli

D. Forconi

28) Quale tra le quattro figure (A, B, C e D), completa l'analogia?

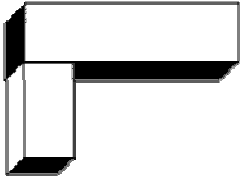
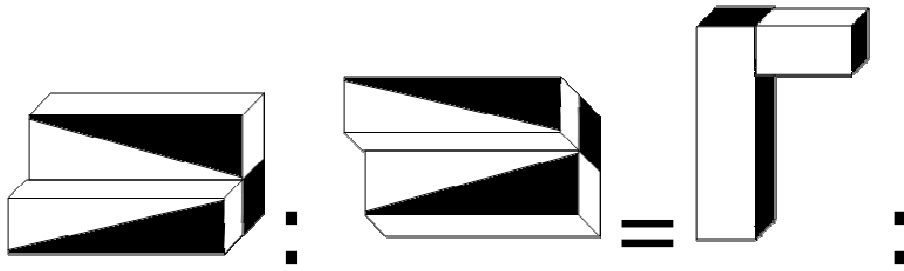


Figura A

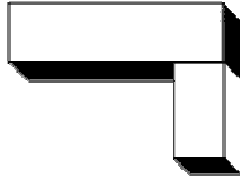


Figura B



Figura C

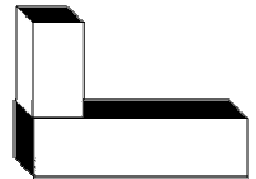


Figura D

- A. Figura A
- B. Figura B
- C. Figura C
- D. Figura D

29) In questa prova bisogna scegliere, tra le figure poste in basso (A, B, C e D), quella che meglio si inserisce nello spazio vuoto, cioè quella che completa la serie.

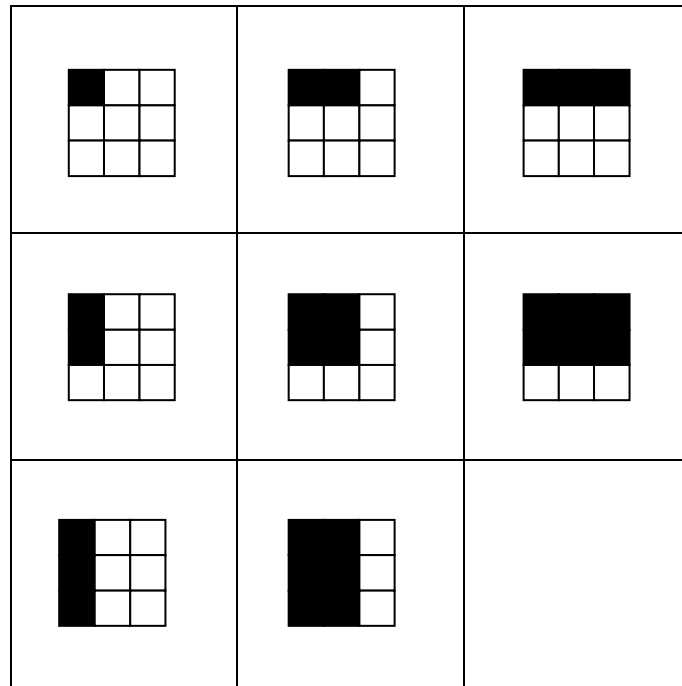


Figura A

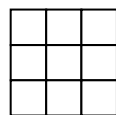


Figura B

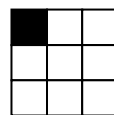


Figura C




Figura D

- A. Figura A
- B. Figura B
- C. Figura C
- D. Figura D

30) Qual è il solo numero che può essere sostituito al posto del punto interrogativo?

	/	5	/	3	=	
/						*
6	*	8	/	12	=	
*						*
3	*	8	/	12	=	
=						=
45						?

- A. 48
- B. 84
- C. 46
- D. 64

