

REGIONE PIEMONTE

QUESTIONARIO

NON APRIRE

l'involucro che racchiude il questionario prima
che venga dato il segnale di inizio della prova

1) Secondo il d.lgs. 286/1999 (art. 2) il controllo di regolarità amministrativa e contabile:

- A) comprende verifiche da effettuarsi in via preventiva nei casi espressamente previsti dalla legge secondo il principio secondo cui le determinazioni sono adottate dall'organo amministrativo responsabile
- B) non comprende verifiche da effettuarsi in via preventiva se non nei casi espressamente previsti dalla legge e fatto salvo, in ogni caso, il principio secondo cui le definitive determinazioni in ordine all'efficacia dell'atto sono adottate dall'organo amministrativo responsabile**
- C) è preliminare, nei casi espressamente previsti dalla legge ed è presupposto per l'efficacia delle determinazioni che sono adottate dall'organo amministrativo responsabile
- D) non comprende verifiche da effettuarsi in via preventiva se non nei casi espressamente previsti dalla legge e fatto salvo, in ogni caso, il principio secondo cui le definitive determinazioni in ordine all'efficacia dell'atto sono adottate dall'organo amministrativo di vertice

2) Ai sensi dell'art. 22 del d.lgs. 165/2001, i provvedimenti di cui all'articolo 21, comma 1, dello stesso decreto, in materia di responsabilità dirigenziale, sono adottati previo conforme parere del Comitato dei garanti, che viene reso....

- A) entro quarantacinque giorni dalla richiesta; decorso inutilmente tale termine si prescinde da esso**
- B) entro trenta giorni dalla richiesta; decorso inutilmente tale termine si prescinde da esso
- C) entro sessanta giorni dalla richiesta; decorso inutilmente tale termine si prescinde da esso
- D) entro quindici giorni dalla richiesta; decorso inutilmente tale termine si prescinde da esso

3) In una fabbrica 20 operai assemblano 150 pezzi in 1 h 15 min. Quanti operai che lavorano alla stessa velocità occorrono per assemblare 180 pezzi in 40 min?

- A) 30
- B) 45**
- C) 40
- D) 75

4) A norma del disposto di cui all'art. 55-bis del d.lgs. 165/2001, per le infrazioni di minore gravità, per le quali è prevista la sanzione del rimprovero verbale, provvede:

- A) il responsabile della struttura presso la quale opera il dipendente**
- B) il responsabile della struttura con qualifica dirigenziale, ovvero quando il responsabile della struttura non ha qualifica dirigenziale, l'organo di vertice dell'amministrazione
- C) l'ufficio competente per i procedimenti disciplinari
- D) nessuna delle figure/uffici sopra indicate

5) Quale delle seguenti affermazioni relative all'art. 73 del d.lgs. 118/2011 è falsa:

- A) la Giunta regionale riconosce con atto deliberativo i debiti fuori bilancio da procedure espropriative o di occupazione di urgenza per opere di pubblica utilità**
- B) il Consiglio regionale riconosce con legge la legittimità dei debiti fuori bilancio derivanti da sentenze esecutive
- C) il Consiglio regionale riconosce con legge la legittimità dei debiti fuori bilancio derivanti da procedure espropriative o di occupazione di urgenza per opere di pubblica utilità
- D) la Giunta regionale non riconosce con atto deliberativo i debiti fuori bilancio derivanti dall'acquisizione di beni e servizi in assenza del preventivo impegno di spesa

6) Il Fondo pluriennale vincolato:

- A) è un saldo finanziario costituito da risorse già accertate destinate al finanziamento di obbligazioni passive dell'ente già impegnate ed esigibili nello stesso esercizio in cui è accertata l'entrata
- B) è costituito da risorse già accertate destinate al finanziamento di obbligazioni passive dell'ente già impegnate, ma esigibili in esercizi successivi a quello in cui è accertata l'entrata**
- C) riguarda prevalentemente le spese correnti ma può essere destinato a garantire anche la copertura di spese in conto capitale
- D) non è costituito da risorse già accertate destinate al finanziamento di obbligazioni passive dell'ente già impegnate

7) Alberto e Ludovico partono insieme per le vacanze. Per giungere a destinazione Alberto deve percorrere il quadruplo dei chilometri che deve percorrere Ludovico meno 180 chilometri. Se Ludovico percorre 235 chilometri Alberto ne deve percorrere:

- A) 940
- B) 840
- C) 760**
- D) 860

8) Ai sensi dell'art. 8, comma 7, della l.r. Piemonte n. 14/2014 "Norme sul procedimento amministrativo e disposizioni in materia di semplificazione", nei casi in cui sono indispensabili termini per la conclusione del procedimento superiori a novanta giorni, tali termini sono deliberati dalla Giunta regionale o dall'Ufficio di Presidenza del Consiglio e non possono comunque superare

- A) i centottanta giorni**
- B) i centoventi giorni
- C) i centocinquanta giorni
- D) i centotrentacinque giorni

9) Agli effetti dell'articolo 25 della legge 241/1990, il difensore civico o la Commissione per l'accesso si pronunciano entro trenta giorni dalla presentazione dell'istanza. Scaduto infruttuosamente tale termine, il ricorso:

- A) si intende accolto e si può immediatamente accedere ai documenti amministrativi
- B) si intende accolto e, trascorsi dieci giorni senza opposizioni, si può accedere ai documenti amministrativi
- C) si intende accolto e, trascorsi quindici giorni senza opposizioni, si può accedere ai documenti amministrativi
- D) si intende respinto

10) Le disposizioni di cui all'art. 20 della legge 241/1990 sul silenzio assenso non si applicano, tra l'altro:

- A) agli atti amministrativi aventi carattere economico
- B) agli atti e procedimenti riguardanti l'immigrazione, l'asilo e la cittadinanza
- C) ai procedimenti a istanza di parte nei quali il responsabile del procedimento o l'autorità competente, prima della formale adozione di un provvedimento negativo, abbia comunicato tempestivamente agli istanti i motivi che ostano all'accoglimento della domanda
- D) agli atti e procedimenti riguardanti la materia edilizia e urbanistica

11) Agli accordi integrativi del provvedimento ex art. 11 della legge 241/1990:

- A) si applicano, ove non diversamente previsto, i principi del codice civile in materia di obbligazioni e contratti in quanto compatibili
- B) si applicano sempre e comunque i principi del codice civile in materia di obbligazioni e contratti
- C) non si applicano i principi del codice civile in materia di obbligazioni e contratti
- D) si applicano i principi del codice civile in materia di obbligazioni e contratti espressamente richiamati dalla legge

12) Il Consiglio delle Autonomie Locali (barrare la risposta sbagliata)

- A) esprime parere sui progetti di legge che prevedono conferimenti di funzioni amministrative da parte della Regione agli enti locali
- B) esprime parere obbligatorio sui progetti di modifica dello Statuto
- C) è composto anche da due presidenti di Unioni di Comuni
- D) è un organo previsto dalla Costituzione della Repubblica Italiana

13) In un ristorante pranzano 350 avventori, dei quali 120 mangiano il secondo, 72 mangiano il contorno e 48 mangiano sia il contorno sia il secondo. Quanti sono gli avventori che non mangiano né il secondo né il contorno?

- A) 238
- B) 152
- C) 124
- D) 206

14) Il Responsabile della Prevenzione della Corruzione e della Trasparenza

- A) predispone - in via esclusiva - il PTPCT e lo sottopone all'approvazione dell'Organo di indirizzo
- B) segnala all'ANAC le "disfunzioni" inerenti all'attuazione delle misure in materia di prevenzione della corruzione e di trasparenza
- C) predispone, anche avvalendosi di società esterne specializzate individuate nel rispetto delle norme in materia di affidamento di servizi, il PTPCT e lo sottopone all'approvazione dell'Organo di indirizzo
- D) è tenuto a segnalare i casi di mancato o ritardato adempimento degli obblighi di pubblicazione all'Organo di indirizzo politico, all'Organismo indipendente di valutazione (OIV) e all'Organo di revisione

15) Ai sensi dell'art. 106, comma 4, del d.lgs. 50/2016, una modifica di un contratto di appalto è considerata sostanziale in tutti i casi in cui:

- A) cambia l'equilibrio economico del contratto a favore dell'aggiudicatario in modo non previsto nel contratto iniziale
- B) estende l'ambito di applicazione del contratto
- C) introduce condizioni diverse rispetto al contratto iniziale
- D) nessuna delle precedenti risposte è corretta

16) Secondo le previsioni dell'art. 54 del d.lgs. 82/2005, i siti delle pubbliche amministrazioni devono contenere:

- A) l'elenco dei bandi di gara e gli avvisi dei concorsi
- B) le disposizioni generali, l'organizzazione, i provvedimenti, i bilanci e i servizi erogati dalla pubblica amministrazione
- C) l'elenco relativo a caselle di posta elettronica istituzionali attive o di posta elettronica certificata
- D) i dati di cui al decreto legislativo 14 marzo 2013, n. 33, nonché quelli previsti dalla legislazione vigente

17) Ai sensi dell'art. 4 del d.lgs. 150/2009, quali di queste fasi relative al ciclo di gestione della performance non sono espressamente previste:

- A) collegamento tra obiettivi e allocazione delle risorse
- B) definizione e assegnazione delle attività
- C) monitoraggio in corso di esercizio
- D) utilizzo dei sistemi premianti

18) Ai sensi dell'art. 32 del Regolamento (UE) 2016/279, il titolare del trattamento e il responsabile del trattamento dei dati personali mettono in atto misure tecniche e organizzative adeguate per garantire il livello di sicurezza adeguato al rischio tra le quali non è compreso:

- A) l'oscuramento dei dati personali
- B) la capacità di assicurare su base permanente la riservatezza, l'integrità, la disponibilità e la resilienza dei sistemi e dei servizi di trattamento
- C) la capacità di ripristinare tempestivamente la disponibilità e l'accesso dei dati personali in caso di incidente fisico o tecnico
- D) una procedura per testare, verificare e valutare regolarmente l'efficacia delle misure tecniche

19) Quale delle seguenti affermazioni è possibile attribuire ad un uomo, se ogni sua affermazione vera è seguita da una falsa, e viceversa?

- A) La mia precedente affermazione è vera
- B) Quanto sto affermando è falso
- C) La mia prossima affermazione sarà vera
- D) La mia precedente affermazione è falsa

20) È ammesso secondo la legge 241/1990 il recesso unilaterale dai contratti della P.A.?

- A) sì, nei casi previsti dalla legge o dal contratto
- B) la legge 241/1990 non contiene previsioni al riguardo
- C) no, in nessun caso
- D) sì, in caso di vizi nella procedura di affidamento

21) Il diritto al risarcimento del danno relativo alle conseguenze per il ritardo dell'amministrazione nella conclusione del procedimento di cui all'art. 2-bis della legge 241/1990 si prescrive:

- A) in cinque anni
- B) in dieci anni, salvo casi espressamente previsti dalla suddetta legge
- C) in dieci anni
- D) in cinque anni, salvo casi espressamente previsti dalla suddetta legge

22) Ai sensi dell'art. 117 della Costituzione la Regione può concludere:

- A) esclusivamente intese con enti territoriali interni od altro Stato
- B) accordi con Stati e intese con enti territoriali interni od altro Stato, nei casi e con le forme disciplinati da leggi dello Stato
- C) accordi e intese con enti territoriali interni o di altro Stato
- D) accordi con Stati e intese con enti territoriali interni od altro Stato, nei casi e con le forme disciplinati da leggi dello Stato, limitatamente alle materie di sua competenza

23) Ai sensi dell'art. 54 bis del d.lgs. 165/2001 in materia di whistleblowing, nell'ambito del procedimento dinanzi alla Corte dei Conti l'identità del segnalante:

- A) non può essere rivelata fino alla chiusura della fase istruttoria
- B) può essere rivelata solo su suo consenso
- C) non può mai essere rivelata
- D) non può essere rivelata fino alla chiusura del procedimento di primo grado

24) Ai sensi dell'art. 5, comma 3, della l.r. Piemonte n. 23/2008 "Disciplina dell'organizzazione degli uffici regionali e disposizioni concernenti la dirigenza ed il personale" per quale delle seguenti materie ai fini dell'adozione dei provvedimenti di organizzazione non è necessaria l'intesa tra Giunta regionale e Ufficio di Presidenza del Consiglio regionale?

- A) il sistema di valutazione dei dirigenti ed il funzionamento del Nucleo di valutazione
- B) i criteri per l'attuazione della mobilità interna ed esterna
- C) i procedimenti per l'accertamento delle responsabilità dirigenziali e per l'adozione dei conseguenti provvedimenti
- D) le modalità di istituzione delle strutture organizzative

25) "Non nego che non amo la musica e che non studio pianoforte". Se l'affermazione precedente è corretta, quale delle seguenti è certamente vera?

- A) Amo la musica e studio pianoforte
- B) Amo la musica e non studio pianoforte
- C) Non amo la musica e non studio pianoforte
- D) Non amo la musica e studio pianoforte

26) La disciplina privatistica del rapporto di pubblico impiego:

- A) era già stata introdotta con il T.U. delle disposizioni concernenti gli impiegati civili dello Stato approvato dal D.P.R. 3/1957
- B) è stata introdotta con il d.lgs. 165/2001, eccezione fatta per alcune categorie
- C) è stata introdotta con il d.lgs. 29/1993, eccezione fatta per alcune categorie
- D) è stata introdotta con il d.lgs. 80/1998, eccezione fatta per alcune categorie

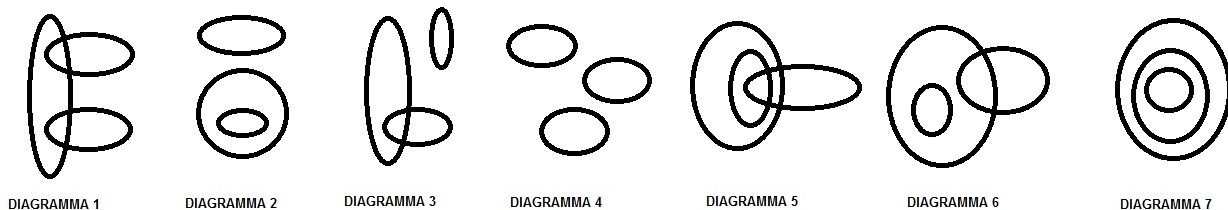
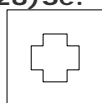


FIGURA 1

27) Con riferimento alla FIGURA 1, indicare il diagramma che soddisfa la relazione insiemistica tra i termini: greci, tedeschi, filosofi

- A) Diagramma 1
- B) Diagramma 2
- C) Diagramma 3
- D) Diagramma 6

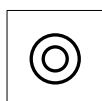
28) Se:



fa passare il bianco e il grigio

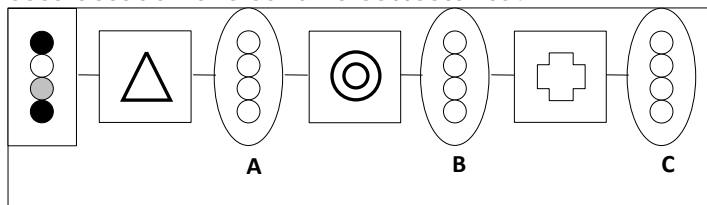


fa passare il grigio e il nero



fa passare il bianco e il nero

cosa accade nello schema sottostante?



- A) Nel semaforo B si illuminano il nero ed il bianco
- B) Nel semaforo C non si illumina nessun colore
- C) Nel semaforo A si illuminano il bianco ed il grigio
- D) Nel semaforo C si illumina il nero

29) A quale dei seguenti soggetti il comma 4, art. 31 del d.lgs. 50/2016, affida il compito di segnalare eventuali disfunzioni, impedimenti, ritardi nell'attuazione degli interventi?

- A) alla stazione appaltante
- B) al Responsabile Unico del Procedimento
- C) ad un organismo esterno alla stazione appaltante appositamente incaricato
- D) al Direttore dei lavori o dell'esecuzione del contratto

30) Un fiorista ha a disposizione 108 rose rosse, 135 rose bianche e 72 rose gialle e vuole preparare dei bouquet, ognuno dei quali contenga il maggior numero possibile di rose di ciascun colore. Quanti bouquet potrà preparare?

- A) 9
- B) 72
- C) 36
- D) 52

31) Ai sensi dell'art. 1444 del codice civile, la convalida del contratto annullabile:

- A) non ha efficacia qualora il contraente al quale spettava l'azione di annullamento vi abbia dato esecuzione
- B) può essere fatta valere da uno qualunque dei contraenti
- C) avviene mediante un atto che contenga la menzione del contratto e del motivo di annullabilità
- D) non ha effetto se chi la esegue non è in condizioni di concludere validamente il contratto

32) Se un atleta impiega 15 secondi per saltare 5 ostacoli, quanto impiegherà per saltare due terzi del doppio di 120 ostacoli più 80 ostacoli?

- A) 1 min
- B) 55 s
- C) 1 min 5 s
- D) 1 min 20 s

33) Spetta alla competenza esclusiva delle Regioni:

- A) la disciplina in materia di espropriazione per pubblica utilità
- B) i rapporti internazionali e con l'Unione Europea delle Regioni
- C) l'istituzione nel proprio territorio di nuovi Comuni
- D) l'organizzazione di attività culturali

Facendo riferimento alle informazioni riportate risponda alle due domande seguenti.

Cinque aziende agricole americane hanno rispettivamente sede in Dakota, Indiana, Texas, Alabama, Florida ed hanno un volume d'affari pari a 7, 11, 23, 28 e 45 milioni di dollari, non necessariamente in quest'ordine. Ciascuna di esse coltiva unicamente un prodotto.

Sapendo che:

- l'azienda che produce granoturco ha sede in Indiana
- l'azienda che produce tabacco ha un volume d'affari pari a 11 milioni di dollari
- l'azienda della Florida ha un volume d'affari pari a 7 milioni di dollari e produce noci
- l'azienda che ha un volume d'affari pari a 28 milioni di dollari produce grano ed ha sede in Dakota
- l'azienda del Texas ha un volume d'affari pari a 23 milioni di dollari
- un'azienda produce cotone

34) Quale delle seguenti affermazioni è corretta?

- A) L'azienda dell'Alabama produce cotone
- B) L'azienda dell'Indiana ha un volume d'affari pari a 45 milioni di dollari
- C) L'azienda dell'Alabama ha un volume d'affari pari a 45 milioni di dollari
- D) L'azienda che produce tabacco ha sede in Texas

35) Quale delle seguenti affermazioni è errata?

- A) L'azienda dell'Alabama ha un volume d'affari pari a 11 milioni di dollari
- B) L'azienda che ha un volume d'affari pari a 11 milioni di dollari non ha sede in Indiana
- C) L'azienda che produce cotone ha un volume d'affari maggiore di 28 milioni di dollari
- D) L'azienda dell'Indiana ha un volume d'affari pari a 45 milioni di dollari

36) Il termine di cinque anni per la prescrizione del diritto al risarcimento del danno per responsabilità contabile, previsto dall'art. 1, comma 2, della legge 20/1994, decorre ...

- A) dalla data in cui è iniziato il procedimento per responsabilità
- B) dalla data in cui è stato accertato il fatto dannoso
- C) dalla data in cui si è verificato il fatto dannoso
- D) nessuna delle precedenti opzioni è corretta

37) Un tassista per l'acquisto di una nuova automobile ha stanziato una somma pari a € 30.000. Per pagare l'anticipo alla concessionaria spende il 25% della somma stanziata, mentre per il saldo spende l'80% della somma rimanente, risparmiando così, rispetto alla somma stanziata:

- A) € 5.000
- B) € 6.250
- C) € 4.500
- D) € 3.950

38) L'acquiescenza dell'atto amministrativo è:





- A) una causa di conservazione dell'atto amministrativo dipendente da un comportamento con cui il soggetto privato dimostri di essere d'accordo con l'operato della P.A.
- B) l'inattaccabilità dell'atto amministrativo da parte di colui che pur avendo interesse a impugnarlo non lo ha fatto nei termini prescritti
- C) nessuna delle opzioni proposte è corretta
- D) una causa di conservazione dell'atto amministrativo, che dipende dal decorso del termine perentorio entro il quale l'interessato avrebbe potuto proporre ricorso contro l'atto invalido

39) Un rappresentante percepisce uno stipendio fisso di 1.500 € al mese e una commissione del 2%, 5% e 10% rispettivamente sulle vendite di prodotti audio, video e informatici. Supponendo che nel mese di marzo il rappresentante abbia venduto 2.000 € di prodotti audio, 5.000 € di prodotti video e 1.500 € di prodotti informatici, quale stipendio percepirà?






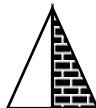






- A) 1.860 €
- B) 2.420 €
- C) 1.780 €
- D) 1.940 €**

40) Individuare la figura che completa logicamente la proporzione








$$E : \text{---} \sqcap = F : ?$$

- 



- A) B) C) D)

41) Individuare la figura che completa correttamente la serie.

			
			
		?	
			
A)	B)	C)	D)

42) Sulla sinistra c'è una serie di figure che sono state costruite seguendo una regola prestabilita. A destra vengono mostrate altre 4 figure dalle quali scegliere la risposta corretta. Il compito è di individuare quale delle 4 figure proposte può essere collocata al posto del punto interrogativo.

			
	?		
			
A)	B)	C)	D)

43) Quando viene ritirato un precedente atto amministrativo, ampliativo delle facoltà del privato in caso di inadempimento di obblighi, mancato esercizio di facoltà o venir meno di requisiti di idoneità, si pone in essere un provvedimento di:

- A) mero ritiro dell'atto amministrativo
- B) revoca dell'atto amministrativo
- C) decadenza dell'atto amministrativo**
- D) rescissione dell'atto amministrativo

44) Quale tra le seguenti immagini rappresenta l'originale al negativo?



1



2



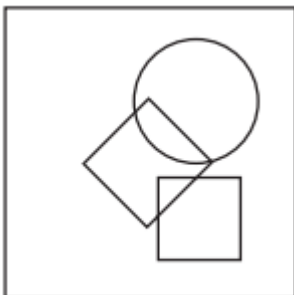
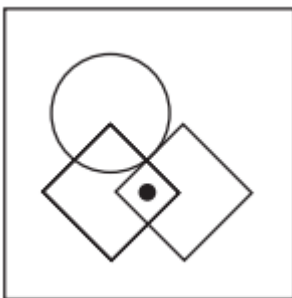
3



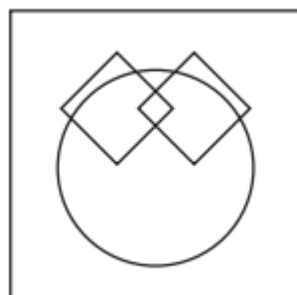
4

- A) Figura 2
- B) Figura 4
- C) Figura 3
- D) Figura 1

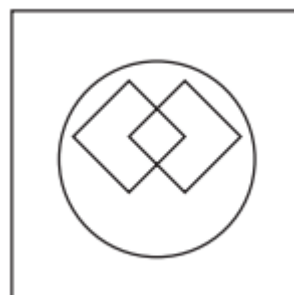
45) Nella figura qui sotto a sinistra è disegnato un pallino. Scegliere tra le 4 alternative di risposta la sola figura nella quale è possibile disegnare il pallino nello stesso punto (ad esempio, dentro il quadrato e fuori dal cerchio). Bisogna dunque prima osservare bene la posizione del pallino e poi identificare tra le 4 figure, a seguire, quella in cui il pallino potrebbe essere inserito nella stessa posizione.



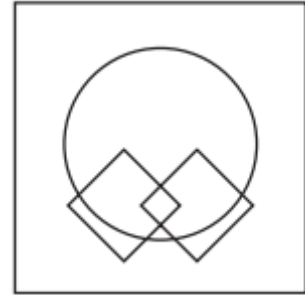
A)



B)



C)



D)

